

Bài 10

PHÉP CỘNG TRONG PHẠM VI 10


TIẾT 5



1

Số ?

a)



6

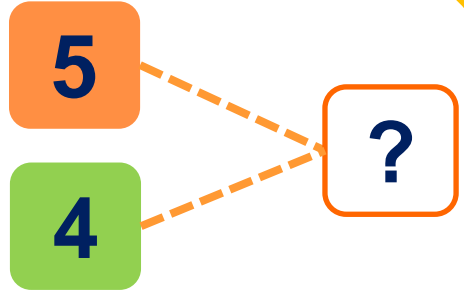

2

?

$$6 + 2 = 8$$

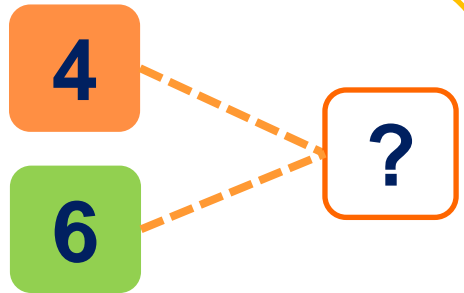

$$2 + 6 = 8$$

b)



$$5 + 4 = 9 \quad 4 + 5 = 9$$

c)



$$4 + 6 = 10 \quad 6 + 4 = 10$$

2

Tính nhẩm

$$7 + 1 = 8 \quad 6 + 2 = 8 \quad 5 + 3 = 8 \quad 4 + 4 = 8$$

$$1 + 7 = 8 \quad 2 + 6 = 8 \quad 3 + 5 = 8 \quad 8 + 0 = 8$$

3

Số ?

+	9	8	7	6	5
	0	1	2	3	4
	9	9	9	9	9

4


Số ?

a)



$$4 + 4 = 8$$

b)



$$3 + 6 = 9$$



Cặp tấm thẻ anh em

Cách chơi:

- Úp các tấm thẻ có các phép cộng dưới đây thành 1 nhóm theo thứ tự bất kì.

$1 + 0$

$4 + 3$

$2 + 1$

$2 + 4$

$7 + 3$

$6 + 2$

$1 + 1$

$2 + 2$

$5 + 4$

$3 + 2$

- Úp các tấm thẻ dưới đây thành 1 nhóm theo thứ tự bất kì

8

2

6

10

5

3

7

1

4

9

- Chơi theo nhóm.
- Khi đến lượt, người chơi lấy mỗi nhóm 1 tấm thẻ. Nếu là cặp tấm thẻ anh em (VD: $1 + 0$ và 1) thì người chơi được giữ lấy, nếu không thì xếp trả lại.
- Trò chơi kết thúc khi có người lấy được 2 cặp tấm thẻ anh em.